

# こたえと解説

表やグラフで比べると、  
答えがはっきり見えるね。



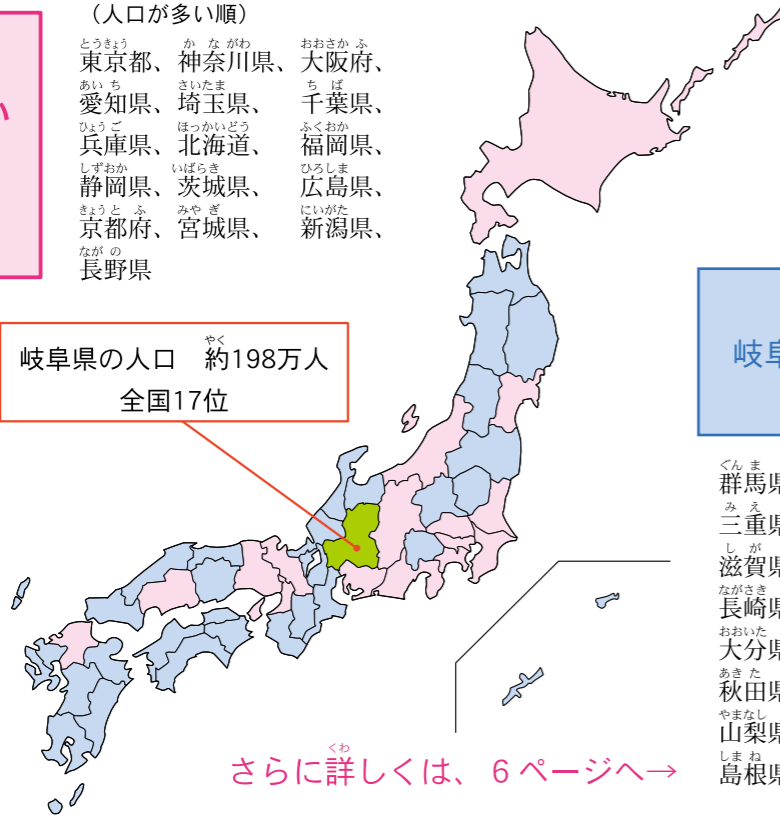
**Q1** 岐阜県の人口は、全国47都道府県の中で、多い方から何位？（令和2年）

人口が  
岐阜県より多い  
都道府県  
【16都道府県】

（人口が多い順）

東京都、神奈川県、大阪府、  
愛知県、埼玉県、千葉県、  
兵庫県、北海道、福岡県、  
静岡県、茨城県、広島県、  
京都府、宮城県、新潟県、  
長野県

岐阜県の人口 約198万人  
全国17位



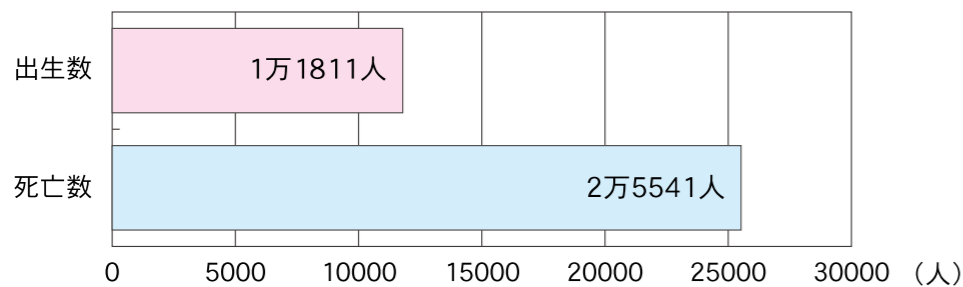
A1  
②17位

人口が  
岐阜県より少ない  
都道府県  
【30都道府県】

群馬県、栃木県、岡山県、福島県、  
三重県、熊本県、鹿児島県、沖縄県、  
滋賀県、山口県、愛媛県、奈良県、  
長崎県、青森県、岩手県、石川県、  
大分県、宮崎県、山形県、富山県、  
秋田県、香川県、和歌山県、佐賀県、  
山梨県、福井県、徳島県、高知県、  
島根県、鳥取県

さらに詳しくは、6ページへ→

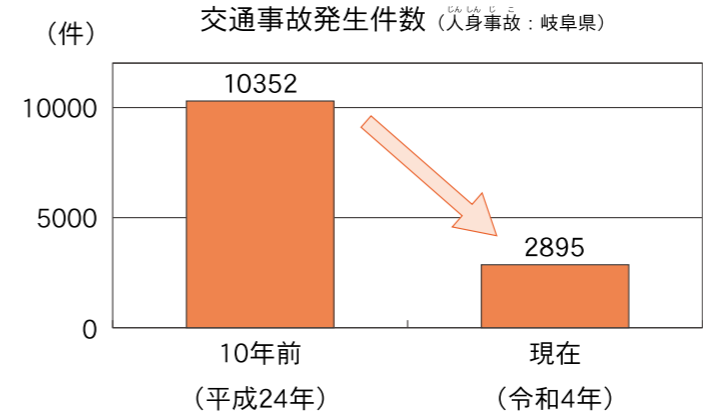
**Q2** 現在の岐阜県では、1年間で生まれた人の数と、死亡した人の数のどちらが多い？（令和4年）



A2  
②死亡した人

さらに詳しくは、8ページへ→

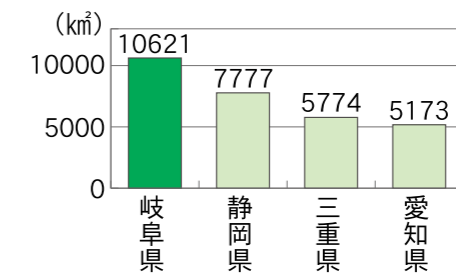
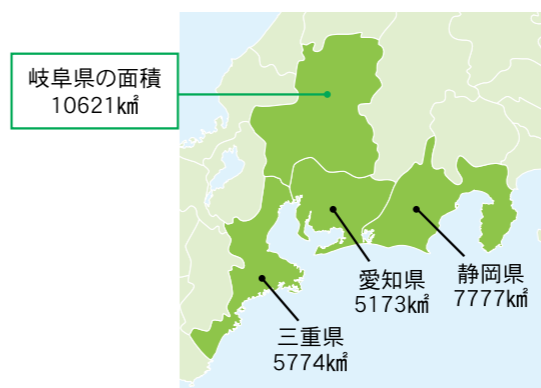
**Q3** 交通事故の年間発生件数は10年間でどれだけ減った？（令和4年）



A3  
③  $\frac{2}{7}$

さらに詳しくは、11ページへ→

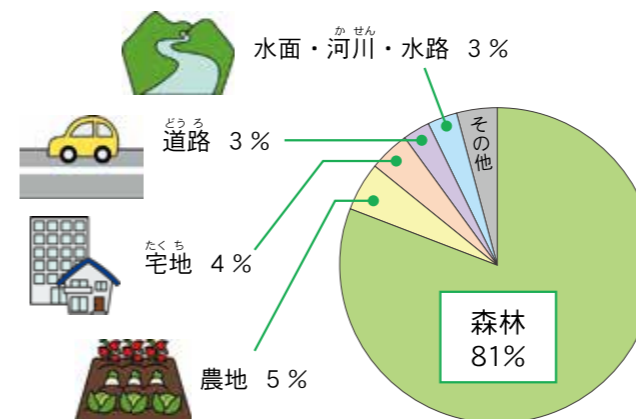
**Q4** 岐阜県、愛知県、三重県、静岡県の中で、一番面積が広いのはどこ？（令和4年）



A4  
①岐阜県

さらに詳しくは、12ページへ→

**Q5** 岐阜県の土地の使われ方のうち、一番面積が広いのは、どんな土地？（令和2年）



A5  
②森林

さらに詳しくは、12ページへ→